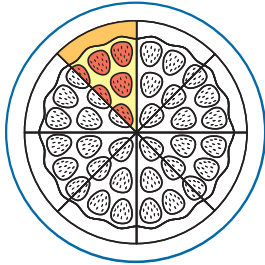



1

- Omkring het geheel.
- Kleur het juiste deel bij de breuk.




$$\frac{1}{8}$$



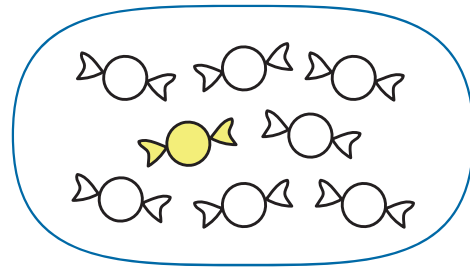
$$\frac{1}{5}$$

2

- Omkring het geheel.
- Noteer de juiste breuk.



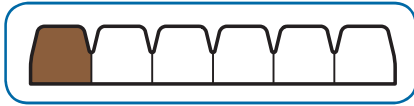
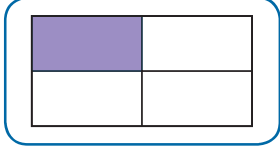
$$\frac{1}{4}$$



$$\frac{1}{8}$$











3

- Schrijf de juiste breuk.
- Vul de breukvragen in.

Omkring het geheel.		
In hoeveel gelijke delen werd het geheel verdeeld?	<u>6</u>	<u>4</u>
Hoeveel delen werden gekleurd?	<u>1</u>	<u>1</u>
Hoe groot is dat deel?	<u>1</u> van de <u>6</u> gelijke delen	<u>1</u> van de <u>4</u> gelijke delen
Hoe schrijf je dat in een breuk?	$\frac{1}{6}$	$\frac{1}{4}$

4

- Kijk naar de breukentafel.
- Schrijf in elk eerste balkje de juiste stambreuk.
- Vul < of > in.

	$\frac{1}{1}$											
	$\frac{1}{2}$											
	$\frac{1}{3}$											
	$\frac{1}{4}$											
	$\frac{1}{5}$											
	$\frac{1}{6}$											
	$\frac{1}{7}$											
	$\frac{1}{8}$											
	$\frac{1}{9}$											
	$\frac{1}{10}$											

$$\frac{1}{10} < \frac{1}{2}$$

$$\frac{1}{4} > \frac{1}{6}$$

$$\frac{1}{2} > \frac{1}{3}$$

$$\frac{1}{7} > \frac{1}{9}$$

$$\frac{1}{5} < \frac{1}{3}$$


$$\frac{1}{6} < \frac{1}{5}$$

5

- Verdeel het geheel verder in even grote delen.
- Vul de breukvragen in.

Alle snoepjes vormen samen het geheel.

Ik neem $\frac{1}{3}$.



Hoe groot is het geheel? **12** snoepjes

In hoeveel gelijke delen verdeel ik dat? **3**


Hoeveel delen neem ik? **1**

Hoeveel snoepjes zijn dat dan? **4**

$\frac{1}{3}$ van 12 snoepjes = **4** snoepjes

Alle blokjes vormen samen het geheel.

Ik neem $\frac{1}{4}$.



Hoe groot is het geheel? **20** blokken

In hoeveel gelijke delen verdeel ik dat? **4**

Hoeveel delen neem ik? **1**

Hoeveel blokken zijn dat dan? **5**

$\frac{1}{4}$ van 20 blokken = **5** blokken

6

- Lees de opdrachten en voer ze uit.
- Schrijf bij elke opdracht een passende breuk.

Kleur:

de helft van het aantal honden bruin. $\frac{1}{2}$ van 8 = 4

een vierde van het aantal honden zwart en een vierde van het aantal honden grijs.

$\frac{1}{4}$ van 8 = 2

Teken:

een hoed op een kwart van het aantal honden hun kop. $\frac{1}{4}$ van 8 = 2

een zonnebril op de helft van het aantal honden hun snuit. $\frac{1}{2}$ van 8 = 4

