

Dit kan ik al!



Ik kan in euro betalen, teruggeven en wisselen.

1 Hoek 1

- Kijk naar de twee manieren waarop het bedrag betaald wordt.
- Kleur bij elke manier het juiste bolletje.
- Vul de zin aan waar nodig.

A € 25	1 <input checked="" type="radio"/> Correct betaald. <input type="radio"/> Er ligt _____ te weinig.	2 <input type="radio"/> Correct betaald. <input checked="" type="radio"/> Er ligt 50 cent _____ te weinig.
	B 12 euro en 75 cent	1 <input checked="" type="radio"/> Correct betaald. <input type="radio"/> Er ligt _____ te weinig.
C € 52	1 <input checked="" type="radio"/> Correct betaald. <input type="radio"/> Er ligt _____ te weinig.	2 <input type="radio"/> Correct betaald. <input checked="" type="radio"/> Er ligt 1 euro 50 cent _____ te weinig.
	D 5 euro en 35 cent	1 <input type="radio"/> Correct betaald. <input checked="" type="radio"/> Er ligt 10 cent _____ te weinig.
E 19 euro en 99 cent	1 <input checked="" type="radio"/> Correct betaald. <input type="radio"/> Er ligt _____ te weinig.	2 <input type="radio"/> Correct betaald. <input checked="" type="radio"/> Er ligt 60 cent _____ te weinig.
	F 4 euro en 98 cent	1 <input type="radio"/> Correct betaald. <input checked="" type="radio"/> Er ligt 8 cent _____ te weinig.








2

Hoek 2

meerdere oplossingen mogelijk

- Schrijf de prijs in het prijskaartje. Betaal gepast.
- Schrijf in de hokjes hoeveel munten of biljetten je nodig hebt.

		€ 20	€ 10	€ 5	€ 2	€ 1	50 c	20 c	10 c	5 c
2 euro 20 cent					1			1		
19 euro 0 cent			1	1	2					
65 euro 0 cent		3		1						
19 euro 95 cent			1	1	2		1	2		1
18 euro 0 cent			1	1	1	1				
15 euro 55 cent			1	1			1			1
44 euro 95 cent		2			2		1	2		1
27 euro 90 cent		1		1	1		1	2		
3 euro 30 cent					1	1		1	1	



3

Hoek 3

- Reken uit hoeveel weken de kinderen moeten sparen.

naam	zakgeld per week	speelgoed	aantal weken sparen
Otis	€ 2	 15 euro	8 _____ weken
Soerin	€ 5	 35 euro	7 _____ weken
Odette	€ 1,50	 3 euro 50 cent	3 _____ weken
Julie	€ 10	 44 euro 95 cent	5 _____ weken
Camille	€ 8	 15 euro 95 cent	2 _____ weken
Rune	€ 4	 13 euro	4 _____ weken
Jonathan	€ 3	 5 euro 50 cent	2 _____ weken



Voer om de beurt de opdracht uit kolom 1 of 2 uit.

vaak zijn meerdere oplossingen mogelijk

Leg dit bedrag met zo weinig mogelijk munten en biljetten:	Wissel het bedrag van je buur nu op zo'n manier dat hij:
€ 20	briefjes heeft van € 5.
€ 50	zowel een briefje van € 10 als van € 20 heeft.
€ 30	enkele muntstukken van € 2 heeft.
€ 25	enkele muntstukken van € 1 en van € 2 heeft.
€ 75	enkele briefjes van € 20 heeft.
€ 15	enkele muntstukken van € 2 heeft.
€ 20	enkele briefjes van € 5 en enkele munten van € 1 heeft.
€ 25	enkele munten van € 1 en enkele munten van € 2 heeft.



Dit heb ik vandaag geleerd.

- Ik oefende op het betalen, wisselen en teruggeven van bedragen.
- Ik leerde eenzelfde bedrag op verschillende manieren betalen.
- Ik leerde de biljetten en muntstukken benoemen en de juiste afkortingen en symbolen gebruiken.