


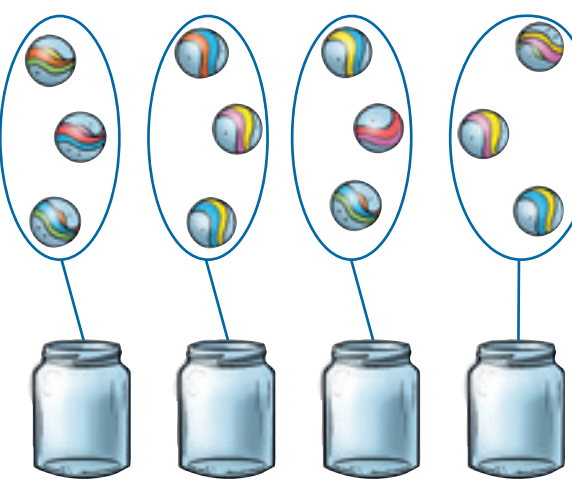


Dit kan ik al!

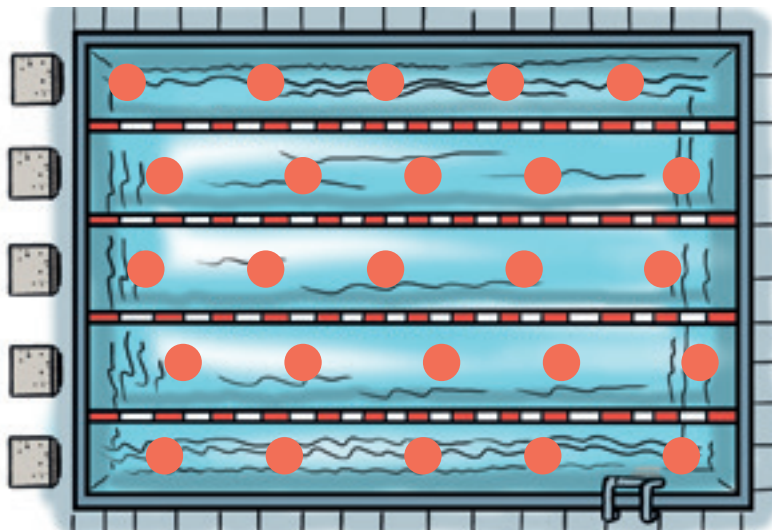


- Ik kan eenvoudige hoeveelheden verdelen in 2, 3 of 4 gelijke delen.
- Ik kan alle deeltafels door elkaar oplossen.

- 1  Verdeel de knikkers over de bokaal.  
In elke bokaal moeten evenveel knikkers zitten.

	
<p>In elke bokaal zitten <b>2 knikkers</b> _____.</p>	<p>In elke bokaal zitten <b>3 knikkers</b> _____.</p>


- 2 Er zijn 25 kinderen in het zwembad.  
 Verdeel ze eerlijk over de zwembanen. Teken voor elk kind een stip.




In elke zwembaan zwemmen **5 kinderen** \_\_\_\_\_.

3


- Verdeel het fruit.  
Iedereen moet evenveel krijgen.




Elk kind krijgt 7 kersen.



Elk kind krijgt 5 aardbeien.



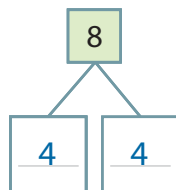
Elk kind krijgt 9 druiven.



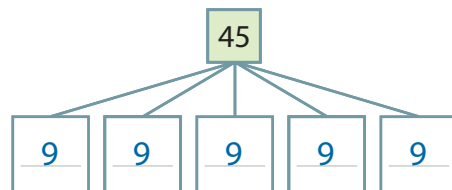
Elk kind krijgt 4 stukken appel.

4

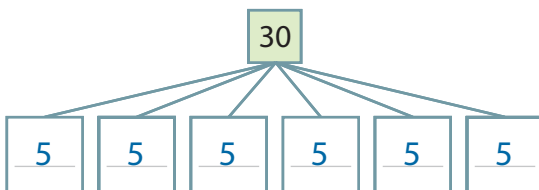
- Vul het splitschema aan.  
 Noteer de formule.



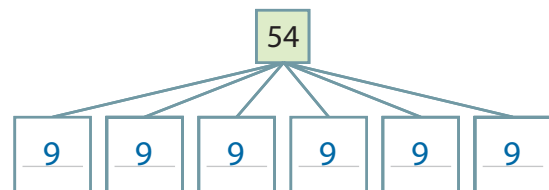
$8 : 2$



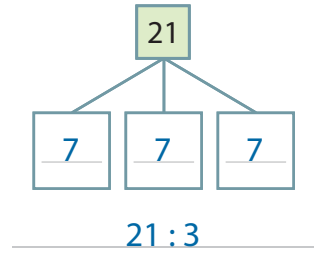
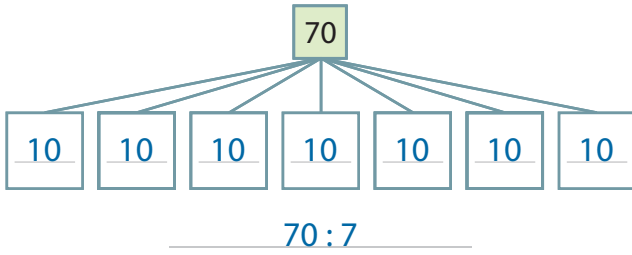
$45 : 5$



$30 : 6$



$54 : 6$




5  Los de delingen op.

- |              |               |               |              |
|--------------|---------------|---------------|--------------|
| $10 : 2 = 5$ | $50 : 5 = 10$ | $42 : 6 = 7$  | $48 : 8 = 6$ |
| $15 : 5 = 3$ | $12 : 3 = 4$  | $36 : 9 = 4$  | $24 : 4 = 6$ |
| $24 : 8 = 3$ | $18 : 6 = 3$  | $16 : 4 = 4$  | $49 : 7 = 7$ |
| $18 : 2 = 9$ | $27 : 9 = 3$  | $80 : 10 = 8$ | $56 : 8 = 7$ |
| $35 : 5 = 7$ | $30 : 3 = 10$ | $32 : 4 = 8$  | $35 : 7 = 5$ |

11.1

11.1

6  Werk uit met het stappenplan.

 Op het verjaardagsfeest van Seth zijn 8 klasgenoten uitgenodigd. Mama bakt 45 koekjes. Hoeveel koekjes mag elk kind opeten?




				45					
?	=	5	5	5	5	5	5	5	5
				$45 : 9 = 5$					

Antwoordzin: Elk kind mag 5 koekjes opeten.

11.2

11.2

7  Werk uit met het stappenplan.

 Joshua verdeelt 28 snoepjes eerlijk onder zichzelf en zijn vrienden. Elk kind krijgt 4 snoepjes. Hoeveel vrienden heeft Joshua?

				28					
4	4	4	4	4	4	4	4		
$4 \text{ in } 28 = 7$ 7 kinderen = Joshua + 6 vrienden									

Antwoordzin: Joshua heeft 6 vrienden.

### Dit heb ik vandaag geleerd.

- Ik leerde een hoeveelheid in gelijke delen verdelen.
- Ik leerde daarbij een splitschema gebruiken.