



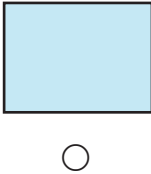
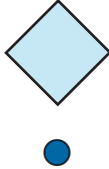




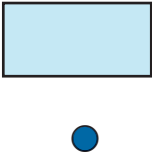



Dit kan ik al!









- Ik kan gelijkheid van vorm en grootte in de omgeving en in vlakke figuren ontdekken en verwoorden.
- Ik kan eenvoudige figuren van gelijke vorm en grootte tekenen op geruit papier.

1 Kleur de bolletjes onder de figuren die gelijkvormig zijn met de figuur links.

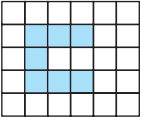
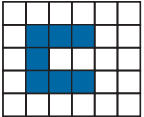

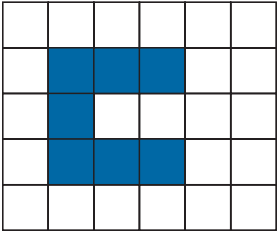
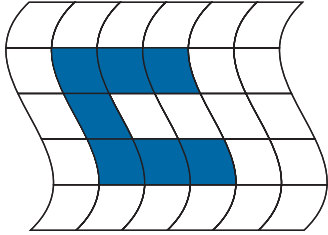
				
				

2 Vergelijk de zes figuren met de figuur bovenaan.
 Duid aan wat past.






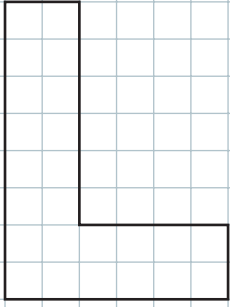
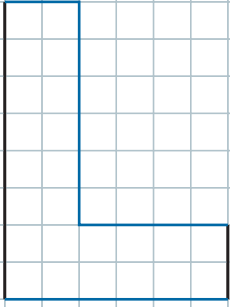
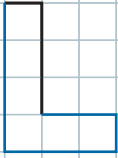
 <ul style="list-style-type: none"> <input type="radio"/> gelijkvormig <input type="radio"/> gelijke vorm en gelijke grootte 	 <ul style="list-style-type: none"> <input checked="" type="radio"/> gelijkvormig <input checked="" type="radio"/> gelijke vorm en gelijke grootte 	 <ul style="list-style-type: none"> <input type="radio"/> gelijkvormig <input type="radio"/> gelijke vorm en gelijke grootte
 <ul style="list-style-type: none"> <input checked="" type="radio"/> gelijkvormig <input checked="" type="radio"/> gelijke vorm en gelijke grootte 	 <ul style="list-style-type: none"> <input checked="" type="radio"/> gelijkvormig <input type="radio"/> gelijke vorm en gelijke grootte 	 <ul style="list-style-type: none"> <input checked="" type="radio"/> gelijkvormig <input type="radio"/> gelijke vorm en gelijke grootte

- 3 Teken figuur A over in de roosters.
 Duid aan wat past.

 <p>A</p>	 <p>Deze figuur en figuur A</p> <ul style="list-style-type: none"> <input checked="" type="radio"/> zijn gelijk van vorm en grootte; <input checked="" type="radio"/> zijn gelijkvormig. 	 <p>Deze figuur en figuur A</p> <ul style="list-style-type: none"> <input type="radio"/> zijn gelijk van vorm en grootte; <input checked="" type="radio"/> zijn gelijkvormig.
	 <p>Deze figuur en figuur A</p> <ul style="list-style-type: none"> <input type="radio"/> zijn gelijk van vorm en grootte; <input checked="" type="radio"/> zijn gelijkvormig. 	 <p>Deze figuur en figuur A</p> <ul style="list-style-type: none"> <input type="radio"/> zijn gelijk van vorm en grootte; <input type="radio"/> zijn gelijkvormig.



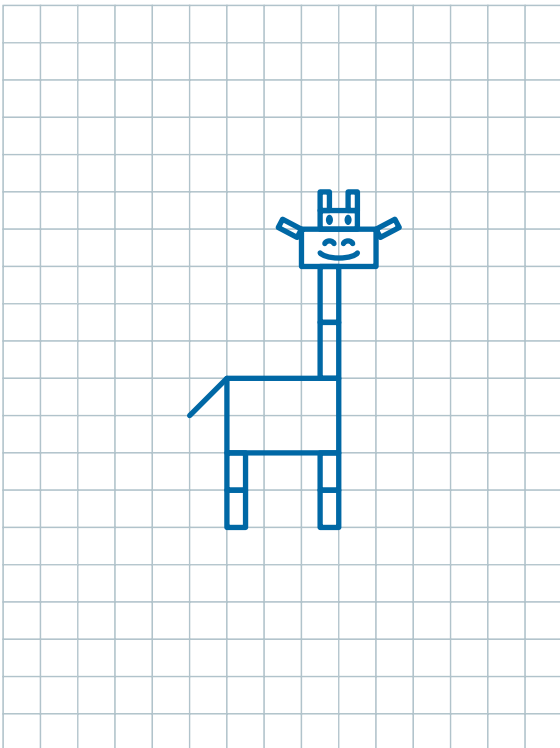
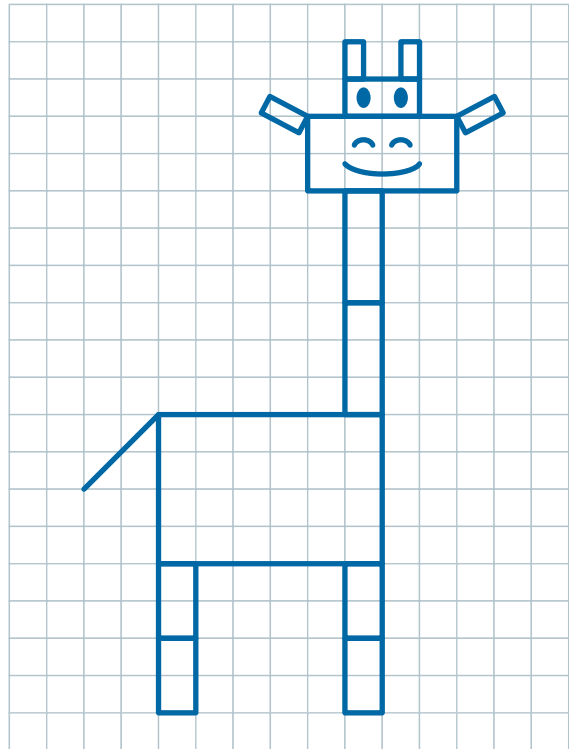
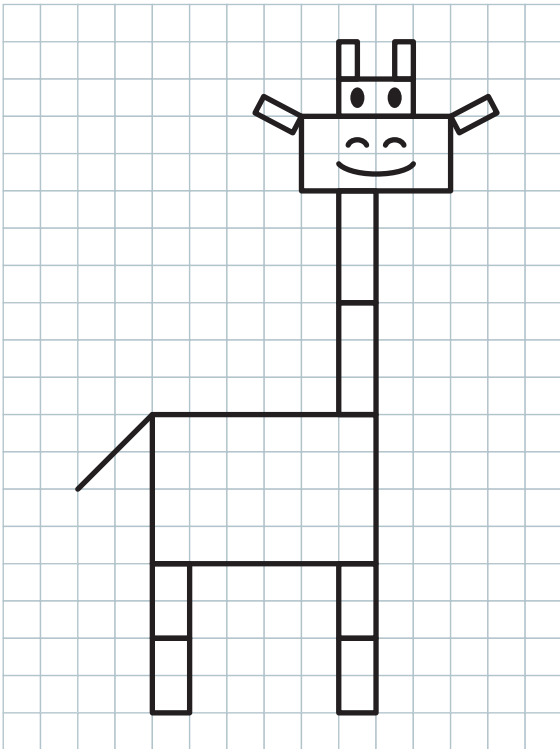
- 4 Lees de opdrachten.
 Teken wat ontbreekt bij elk figuur.

	een figuur met dezelfde vorm en dezelfde grootte	een gelijkvormige figuur: dezelfde vorm maar een andere grootte
		
		

5

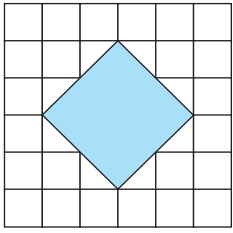
□ Teken de giraf op twee verschillende manieren:

- Gelijk van vorm en grootte.
- Gelijkvormig: teken de lijnen half zo lang.

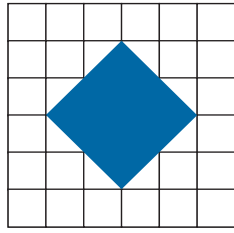


6

- Teken figuur B over in de roosters.
- Kruis aan wat past.

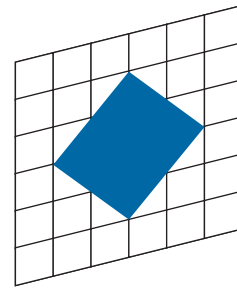


B



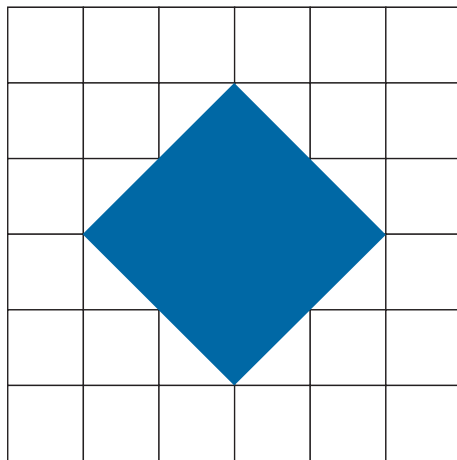
Deze figuur en figuur B

- zijn gelijk van vorm en grootte;
- zijn gelijkvormig.



Deze figuur en figuur B

- zijn gelijk van vorm en grootte;
- zijn gelijkvormig.



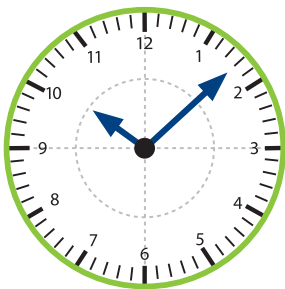
Deze figuur en figuur B

- zijn gelijk van vorm en grootte;
- zijn gelijkvormig.

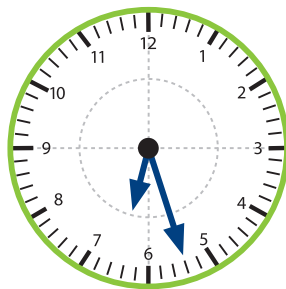
Dit heb ik vandaag geleerd.

- Ik leerde het verschil kennen tussen gelijkvormige figuren en figuren die gelijk zijn van vorm en grootte.
- Ik leerde figuren tekenen die van vorm en grootte gelijk zijn aan een gegeven figuur.

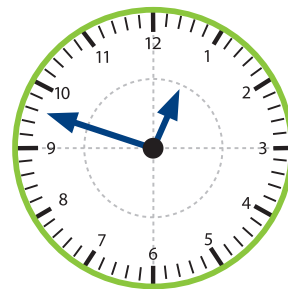
KLOK-JE-MEE?



Het is 8 over 10.



Het is 27 over 6.



Het is 12 voor 1.