



Dit kan ik al!



- Ik kan optellen tot 50 met brug, type TE + TE.
- Ik kan aftrekken tot 50 met brug, type TE – TE.

1

- Werk uit.
- Gebruik het stappenplan.
- Vul de stroken in. Maak de bewerking.

1 Amir en Israh hebben samen 40 euro.

Amir heeft 25 euro.

Hoeveel geld heeft Isra?

Antwoordzin: Isra heeft 15 euro.

2 In de garage staan 24 auto's.

Er zijn nog 22 plaatsen vrij.

Hoeveel auto's kunnen er in de garage?

Antwoordzin: Er kunnen 46 auto's in de garage.

2

- Vul in.

H	T	E
1	0	0
	4	5
	9	1
		8
	1	6

H	T	E
	7	4
1	0	0
		3
	6	9
	2	5

H	T	E
	8	7
	1	8
1	0	0
		6
	3	1

6T + 3E = 63 _____

5T + 6E = 56 _____

6E + 3T = 36 _____

8T + 9E = 89 _____

4E + 8T = 84 _____

100, 45, 91, 8, 16

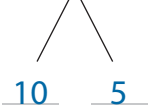
74, 100, 3, 69, 25

87, 18, 100, 6, 31 _____

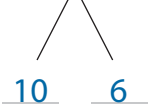


3 Vul de som in.

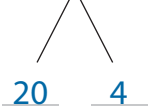
$$19 + 15 = \underline{19 + 10} + 5 = \underline{29} + 5 = 29 + 1 + 4 = \mathbf{34}$$



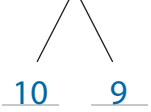
$$28 + 16 = \underline{28 + 10} + 6 = \underline{38} + 6 = 38 + 2 + 4 = \mathbf{44}$$



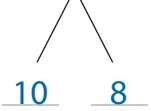
$$17 + 24 = \underline{17 + 20} + 4 = \underline{37} + 4 = 37 + 3 + 1 = \mathbf{41}$$



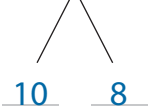
$$25 + 19 = \underline{25 + 10} + 9 = \underline{35} + 9 = 35 + 5 + 4 = \mathbf{44}$$



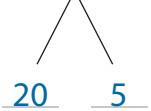
$$29 + 18 = \underline{29 + 10} + 8 = \underline{39} + 8 = 39 + 1 + 7 = \mathbf{47}$$



$$24 + 18 = \underline{24 + 10} + 8 = \underline{34} + 8 = 34 + 6 + 2 = \mathbf{42}$$




$$16 + 25 = \underline{16 + 20} + 5 = \underline{36} + 5 = 36 + 4 + 1 = \mathbf{41}$$



4 Vul het verschil in.

$$41 - 15 = \underline{41 - 10 - 5 = 31} - 1 - 4 = 30 - 4 = \mathbf{26}$$




$$33 - 19 = \underline{33 - 10 - 9 = 23} - 3 - 6 = 20 - 6 = \mathbf{14}$$



$$44 - 28 = \underline{44 - 20 - 8 = 24} - 4 - 4 = 20 - 4 = \mathbf{16}$$



$$32 - 18 = \underline{32 - 10 - 8 = 22} - 2 - 6 = 20 - 6 = \mathbf{14}$$



$$43 - 25 = \underline{43 - 20 - 5 = 23} - 3 - 2 = 20 - 2 = \mathbf{18}$$



$$46 - 38 = \underline{46 - 30 - 8 = 16} - 6 - 2 = 10 - 2 = \mathbf{8}$$



$$32 - 27 = \underline{32 - 20 - 7 = 12} - 2 - 5 = 10 - 5 = \mathbf{5}$$



5

- Werk uit.
- Gebruik het stappenplan.
- Teken stroken. Maak de bewerking.

- 1 Een muts kost **8 euro**.
 Een sjaal **kost het dubbele**.
Hoeveel euro betaal je voor de beide samen?

?			=	24
8	8	8		
muts	sjaal			

sjaal: $8 + 8 = 16$ samen: $16 + 8 = 24$

Antwoordzin: De muts en de sjaal kosten samen 24 euro.

- 2 In Leefdaal zijn er ~~twee scholen~~.
 In De Kievit zitten er **19 leerlingen**
 in het tweede leerjaar.
 In De Buizerd zitten er **12 leerlingen meer**
 in het tweede leerjaar.
Hoeveel leerlingen zitten er in De Buizerd
 in het tweede leerjaar?

?			=	31
19		12		

Antwoordzin: In De Buizerd zitten er 31 leerlingen in het tweede leerjaar.

6

- Vul de som of het verschil in.

$36 + 15 = \underline{36 + 10} + 5 = \underline{46} + 5 = \mathbf{51}$

$41 - 26 = \underline{41 - 20} - 6 = \underline{21} - 6 = \mathbf{15}$

$17 + 24 = \underline{17 + 20} + 4 = \underline{37} + 4 = \mathbf{41}$

$32 - 16 = \underline{32 - 10} - 6 = \underline{22} - 6 = \mathbf{16}$

$28 + 19 = \underline{28 + 10} + 9 = \underline{38} + 9 = \mathbf{47}$

$48 - 29 = \underline{48 - 20} - 9 = \underline{28} - 9 = \mathbf{19}$

$17 + 16 = \underline{17 + 10} + 6 = \underline{27} + 6 = \mathbf{33}$

$42 - 29 = \underline{42 - 20} - 9 = \underline{22} - 9 = \mathbf{13}$

$14 + 18 = \underline{14 + 10} + 8 = \underline{24} + 8 = \mathbf{32}$

$30 - 17 = \underline{30 - 10} - 7 = \underline{20} - 7 = \mathbf{13}$

$19 + 12 = \underline{19 + 10} + 2 = \underline{29} + 2 = \mathbf{31}$

$42 - 18 = \underline{42 - 10} - 8 = \underline{32} - 8 = \mathbf{24}$

$24 + 19 = \underline{24 + 10} + 9 = \underline{34} + 9 = \mathbf{43}$

$50 - 34 = \underline{50 - 30} - 4 = \underline{20} - 4 = \mathbf{16}$

$24 + 26 = \underline{24 + 20} + 6 = \underline{44} + 6 = \mathbf{50}$

$43 - 29 = \underline{43 - 20} - 9 = \underline{23} - 9 = \mathbf{14}$

15.1

15.1



7

- Werk uit.
- Gebruik het stappenplan.
- Teken stroken. Maak de bewerking.

- 1 Boer Juul heeft 34 kippen.
 's Nachts bijt de vos verscheidene kippen dood.
 Boer Juul houdt nog 19 kippen over.
Hoeveel kippen beet de vos dood?

Antwoordzin: De vos beet 15 kippen dood.

- 2 Noor woont in een villawijk.
 Aan de ene kant staan 16 villa's.
 Aan de andere kant staan 27 villa's.
Hoeveel villa's staan er in de wijk?

Antwoordzin: Er staan 43 villa's in de wijk.

8

- Vul in.

$25 + 16 = 25 + 10 + 6 = 41$

$32 - 15 = 32 - 10 - 5 = 17$

$45 - 29 = 45 - 20 - 9 = 16$

$29 + 18 = 29 + 10 + 8 = 47$

$16 + 27 = 16 + 20 + 7 = 43$

$44 - 38 = 44 - 30 - 8 = 6$

- Werk uit.
- Gebruik het stappenplan.
- Teken stroken. Maak de bewerking.

- Leonie, Felix en Kaat wassen auto's.
 Leonie heeft deze maand 41 auto's gewassen.
 Felix heeft er 19 gewassen en Kaat 25.
Hoeveel auto's heeft Leonie deze maand
 meer gewassen dan Felix?

Antwoordzin: Leonie heeft deze maand 22 auto's meer gewassen dan Felix.

Dit heb ik vandaag geleerd.

- Ik leerde een getalschema invullen en getallen splitsen in T en E.
- Ik leerde optellingen en aftrekkingen tot 50 met brug.
- Ik leerde vraagstukken oplossen met een schets met stroken.