

Tabellen en blokdiagrammen

Dit kan ik al!



- Ik kan beeld- en blokdiagrammen aflezen.
- Ik kan zelf een beeld- en blokdiagram opstellen.
- Ik kan uurtabellen lezen.

1

- Bekijk de tabel.
- Beantwoord de vragen.

Openingsuren Plopsaland De Panne

<input type="checkbox"/> gesloten	<input type="checkbox"/> 10.30 - 18.00	<input type="checkbox"/> uitverkocht	<input type="checkbox"/> 10.00 - 18.00
<input type="checkbox"/> 10.00 - 17.30	<input type="checkbox"/> 10.00 - 22.30	<input type="checkbox"/> 10.00 - 19.00	<input type="checkbox"/> 10.30 - 17.00
<input type="checkbox"/> 10.30 - 19.00			

JANUARI

M	D	W	D	V	Z	Z
				1	2	3
4	5	6	7	8	9	10
11	12	13	14	15	16	17
18	19	20	21	22	23	24
25	26	27	28	29	30	31

FEBRUARI

M	D	W	D	V	Z	Z
1	2	3	4	5	6	7
8	9	10	11	12	13	14
15	16	17	18	19	20	21
22	23	24	25	26	27	28
29						

MAART

M	D	W	D	V	Z	Z
	1	2	3	4	5	6
7	8	9	10	11	12	13
14	15	16	17	18	19	20
21	22	23	24	25	26	27
28	29	30	31			

APRIL

M	D	W	D	V	Z	Z
				1	2	3
4	5	6	7	8	9	10
11	12	13	14	15	16	17
18	19	20	21	22	23	24
25	26	27	28	29	30	

MEI

M	D	W	D	V	Z	Z
						1
2	3	4	5	6	7	8
9	10	11	12	13	14	15
16	17	18	19	20	21	22
23	24	25	26	27	28	29
30	31					

JUNI

M	D	W	D	V	Z	Z
		1	2	3	4	5
6	7	8	9	10	11	12
13	14	15	16	17	18	19
20	21	22	23	24	25	26
27	28	29	30			

JULI

M	D	W	D	V	Z	Z
				1	2	3
4	5	6	7	8	9	10
11	12	13	14	15	16	17
18	19	20	21	22	23	24
25	26	27	28	29	30	31

AUGUSTUS

M	D	W	D	V	Z	Z
1	2	3	4	5	6	7
8	9	10	11	12	13	14
15	16	17	18	19	20	21
22	23	24	25	26	27	28
29	30	31				

In welke maand is het park volledig gesloten? februari

Tijdens welke maand is het park het langst open? augustus

Waarom is dat zo, denk je? Omdat het dan grote vakantie is en er veel bezoekers zijn.

Waarom zijn 22 mei, 5 juni en 11 juni grijs gekleurd? Deze dagen zijn uitverkocht.

Om hoe laat kunnen Lieze en Timon op 17 juli het park in? om 10 uur

Om hoe laat sluit het park op 17 juli? om 19 uur

- Bekijk de tabel.
- Beantwoord de vragen.

Dienstregeling kusttram De lijn

Dienstregeling

Datum: zondag 17/07/2016

Oostduinkerke	○ Bad	09:20	09:30	09:40	09:50
Oostduinkerke	○ Schipgat	09:22	09:32	09:42	09:52
Koksijde	○ Lejeunelaan	09:24	09:34	09:44	09:54
Koksijde	○ Bad	09:25	09:35	09:45	09:55
Koksijde	○ Ster Der Zee	09:27	09:37	09:47	09:57
Koksijde	○ Sint-Idesbald	09:29	09:39	09:49	09:59
De Panne	○ Golfstraat	09:32	09:42	09:52	10:02
De Panne	○ Centrum	09:34	09:44	09:54	10:04
De Panne	○ Esplanade	09:37	09:47	09:57	10:07
De Panne	○ Kerk	09:39	09:49	09:59	10:09
De Panne	○ Moeder Lambic	09:41	09:51	10:01	10:11
De Panne	○ Plopsaland	09:43	09:53	10:03	10:13
De Panne	○ Station	09:44	09:54	10:04	10:14

Hoe laat nemen Lieze en Timon best de tram in Oostduinkerke Bad als ze op 17 juli zo vroeg mogelijk Plopsaland in willen? **om 9.20 u. of 9.30 u.**

Hoe laat komen ze dan aan in Plopsaland De Panne? **om 9.43 u. of 9.53 u.**

Hoelang zijn ze dan onderweg? **23 minuten**

Hoeveel keer zal de tram stoppen voor ze moeten uitstappen? **10 keer**



3

- Lees.
- Bekijk het blokdiagram.
- Beantwoord de vragen.

Aan 100 inwoners van de gemeente Oostduinkerke Bad werd gevraagd welke eetstanden ze het liefst op de dijk willen tijdens de zomeractiviteiten. De drie meest gekozen standen zullen er op alle bijzondere dagen en in de weekends staan. Dit zijn de resultaten:



één blokje is vijf stemmen

Welke eetstand wil jij op de dijk?

ijs	frietten	hamburger	fruit	suikerspin

Welke standen zullen er staan? ijs, frieten en fruit

Hoeveel stemmen kregen de twee meest gekozen standen elk? Ze kregen elk 30 stemmen.

Welke stand werd het minst gekozen? de hamburgerstand

Wat lees je af op de verticale as? Hoeveel mensen er voor deze stand stemden.

4


























- Lees.
- Geef de resultaten weer in een blokdiagram.
- Geef het diagram een titel.
- Beantwoord de vragen.

De inwoners van Oostduinkerke Bad mogen ook over de zomeractiviteiten stemmen. Ook hier zullen de drie activiteiten met de meeste stemmen echt worden georganiseerd. De mensen konden kiezen uit vijf activiteiten. Het strandvoetbaltornooi kreeg 35 stemmen. De surfwedstrijd kreeg 10 stemmen. De vliegerwedstrijd haalde 15 stemmen. De gocartcompetitie en het strandvolleybaltornooi kregen beide 20 stemmen.



 één blokje telt voor vijf stemmen

titel: Zomeractiviteiten in Oostduinkerke Bad (meerdere oplossingen mogelijk) _____


				
				
				
				
				
				
				
				
<u>voetbal</u>	<u>surfen</u>	<u>vliegeren</u>	<u>gocart</u>	<u>volleybal</u>

Welke activiteiten zullen deze zomer georganiseerd worden?

het strandvoetbal- en volleybaltornooi en de gocartcompetitie

Welke activiteit kreeg de minste stemmen? de surfwedstrijd

- 5** Zoek een onderwerp voor een diagram over je klasgroep.
Bijvoorbeeld: haartypes (heel kort, kort, schouderlang, lang), kledij (broek, short, rok, kleedje), gezin (één broer, één zus ...)
- Schrijf de onderdelen onder de horizontale as in het diagram.
- Maak een legende. (één blokje = ... leerlingen)
- Teken de blokken bij elk onderdeel. meerdere oplossingen mogelijk

 één blokje telt voor _____ leerlingen

<u>_____</u>	<u>_____</u>	<u>_____</u>	<u>_____</u>	<u>_____</u>

Dit heb ik vandaag geleerd.

- Ik leerde tabellen aflezen en gebruiken.
- Ik leerde blokdiagrammen aflezen en zelf opstellen.