




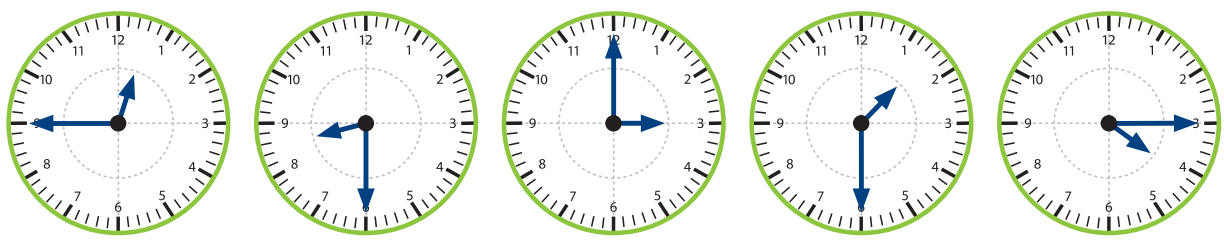

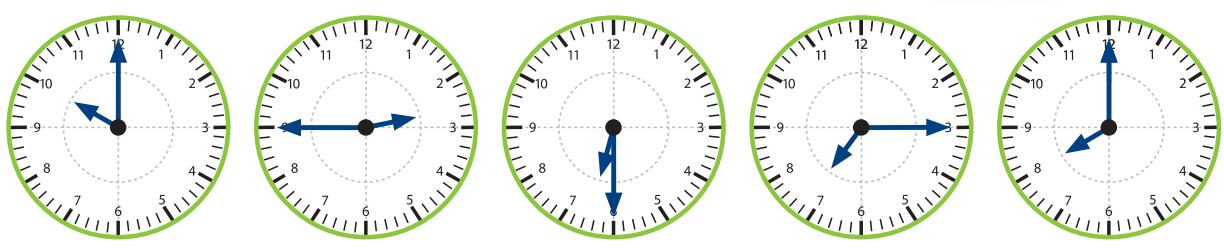
### Dit kan ik al!



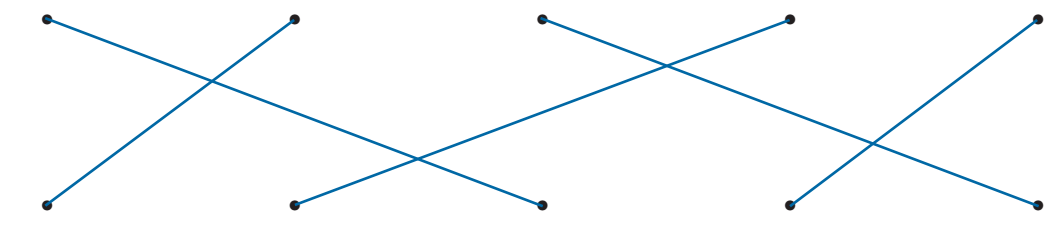
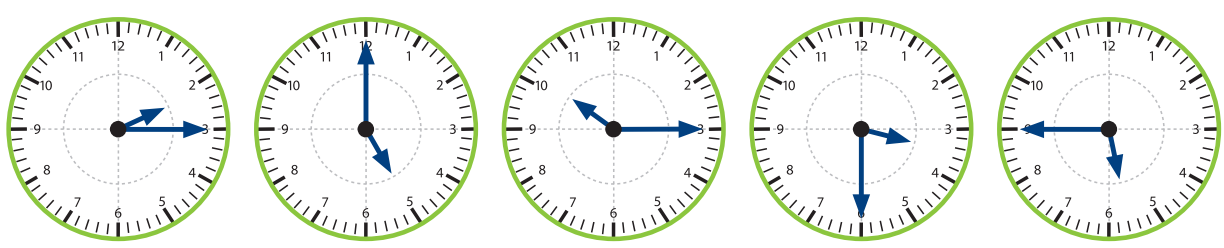
- Ik kan het uur en het half uur lezen.
- Ik kan kwart voor en kwart over lezen.

## 1 Geef de vakjes onder de klokken de juiste kleur:

- **blauw** als de klok het uur aangeeft;
- **geel** als de klok het half uur aangeeft;
- **groen** als het kwart voor is;
- **rood** als het kwart over is.



## 2 Verbind wat bij elkaar hoort.



5 uur      half 4      kwart over 2      kwart voor 6      kwart over 10

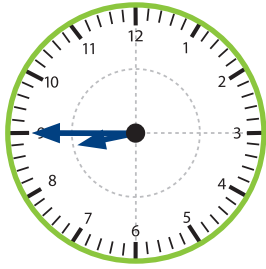
3  Schrijf de datum van vandaag, gisteren en morgen voluit. eigen antwoord

Vandaag is het bv. vrijdag, 18 mei 2018

Gisteren was het \_\_\_\_\_

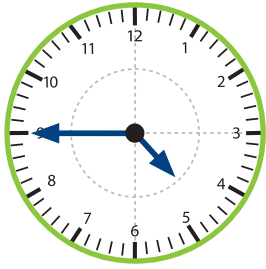
Morgen is het \_\_\_\_\_

4  Schrijf hoe laat het is.



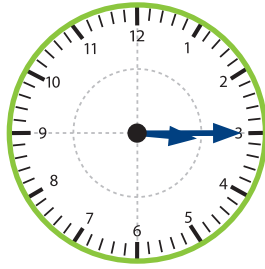
Het is kwart

voor 9 \_\_\_\_\_.



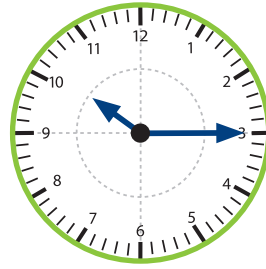
Het is kwart

voor 5 \_\_\_\_\_.



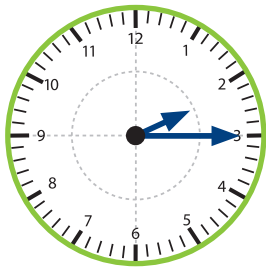
Het is kwart

over 3 \_\_\_\_\_.



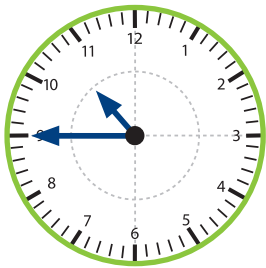
Het is kwart

over 10 \_\_\_\_\_.



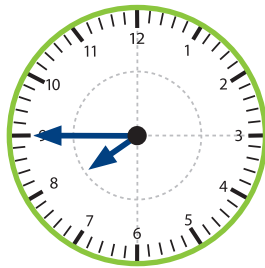
Het is \_\_\_\_\_

kwart over 2 \_\_\_\_\_.



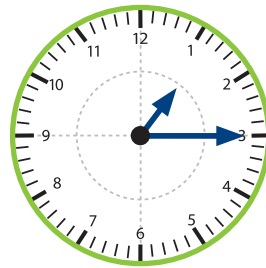
Het is \_\_\_\_\_

kwart voor 11 \_\_\_\_\_.



Het is \_\_\_\_\_

kwart voor 8 \_\_\_\_\_.

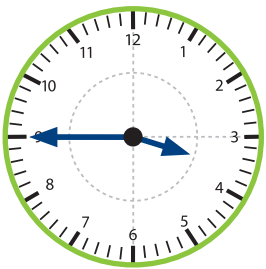


Het is \_\_\_\_\_

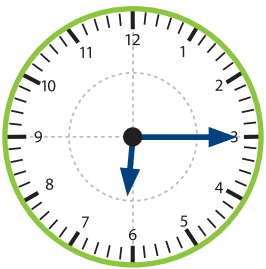
kwart over 1 \_\_\_\_\_.



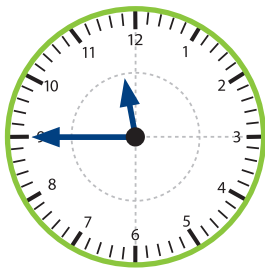
5  Noteer hoe laat het is.



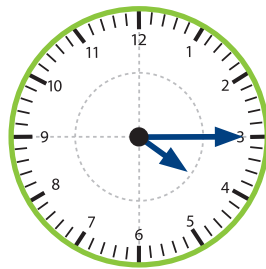
Het is kwart voor 4



Het is kwart over 6



Het is kwart voor 12



Het is kwart over 4



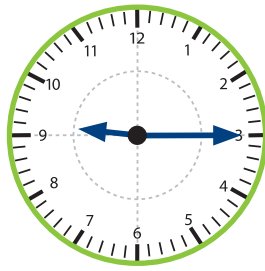
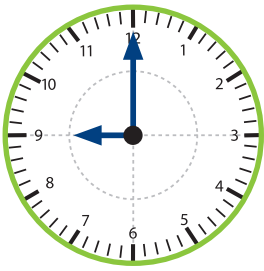
6

- Schrijf onder elke klok hoe laat het is.  
 Hoeveel tijd zit er telkens tussen de twee klokken?

Jorien speelt tennis.

begin

einde



van

tot

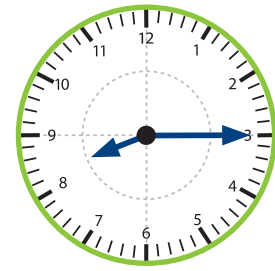
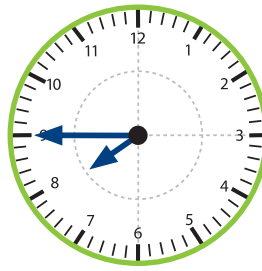
9 uur \_\_\_\_\_ kwart over 9 \_\_\_\_\_

Jorien tennist **een kwartier** \_\_\_\_\_.

Lucas is bij oma.

begin

einde



van

tot

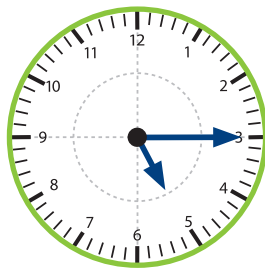
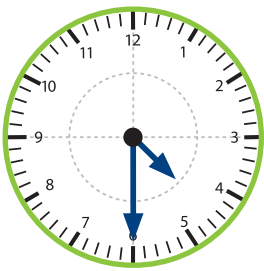
kwart voor 8 \_\_\_\_\_ kwart over 8 \_\_\_\_\_

Lucas is **een half uur** \_\_\_\_\_ bij oma.

Lotte kijkt tv.

begin

einde



van

tot

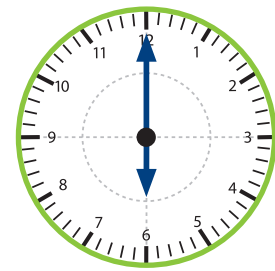
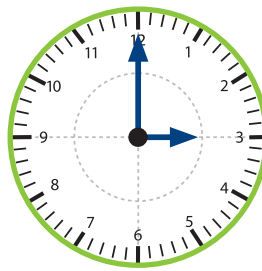
half 5 \_\_\_\_\_ kwart over 5 \_\_\_\_\_

Lotte kijkt **drie kwartier** \_\_\_\_\_ tv.

Abdoul voetbalt.

begin

einde



van

tot

3 uur \_\_\_\_\_ 6 uur \_\_\_\_\_

Abdoul voetbalt **drie uur** \_\_\_\_\_.

Dit heb ik vandaag geleerd.

- Ik leerde het uur aflezen tot op een kwartier.
- Ik leerde zelf de tijd aanduiden en noteren tot op een kwartier.

