



Dit kan ik al!



Ik kan betalen en teruggeven met munten en biljetten tot 100 euro.

1 Noteer het bedrag van de prijskaartjes.

€ 1,50 → 1 euro 50 cent

€ 1,05 → 1 euro 5 cent _____

€ 0,25 → (0 euro) 25 cent _____

€ 1,75 → 1 euro 75 cent _____

€ 0,99 → (0 euro) 99 cent _____

€ 1,82 → 1 euro 82 cent _____

Hoe betaal je 1 euro?



2 Noteer hoeveel geld er wordt afgebeeld.







60 cent _____



1 euro 55 cent of € 1,55 _____

3 Omkring de gevraagde hoeveelheid geld. Gebruik zo weinig mogelijk muntstukken.

 <p>1 euro 20 cent</p> 	 <p>1 euro 5 cent</p> 
--	---

4 Los op.
 Vul de tussenstap in.
Je mag oefengeld gebruiken.

1. Ik koop een waterijsje van 1 euro 20 cent.
Ik betaal met een muntstuk van 2 euro.
Hoeveel krijg ik terug?

Bewerking: $2 - 1 \text{ euro en } 20 \text{ cent} = 80 \text{ cent}$ _____

Antwoordzin: Ik krijg 80 cent terug. _____

2. Een puntenslijper kost 45 cent.
Ik betaal met een muntstuk van € 1.
Hoeveel krijg ik terug?

Bewerking: $1 - 45 \text{ cent} = 55 \text{ cent}$ _____

Antwoordzin: Ik krijg 55 cent terug. _____



5

 Kijk naar het voorbeeld.

 Duid aan wat je terugkrijgt met zo weinig mogelijk munten.

Ik koop.	Ik betaal met ...	Ik krijg ... terug.						
		1 cent	2 cent	5 cent	10 cent	20 cent	50 cent	1 euro
 85 cent				×	×			
 30 cent						×	×	×
 1 euro 65 cent				×	×	×		
 25 cent				×		×	×	×
 43 cent			×	×			×	
 1 euro 58 cent			×			×	×	

5.1

5.1

