

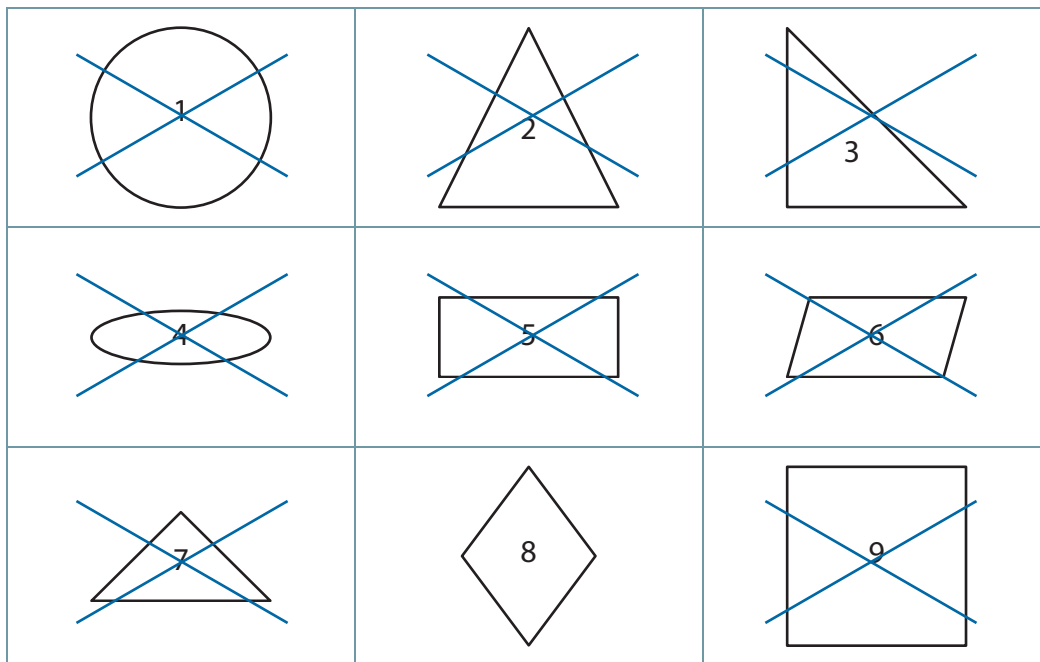
## Dit kan ik al!



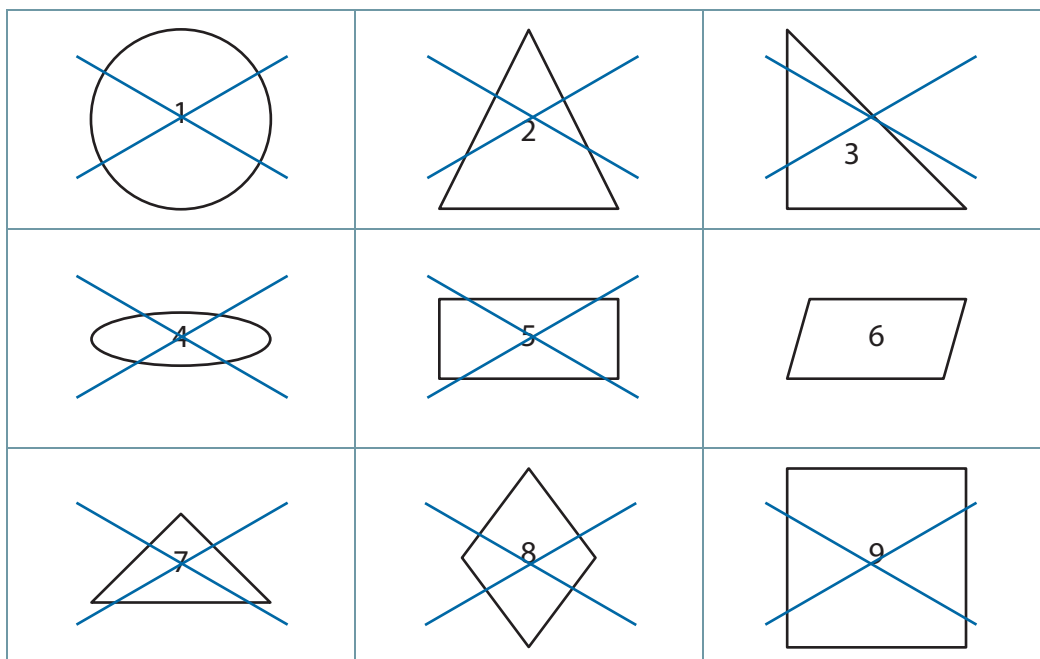
- Ik kan rechthoeken en vierkanten tekenen op geruit papier.
- Ik kan de eigenschappen van de hoeken en van de zijden benoemen van een rechthoek en een vierkant.
- Ik kan driehoeken benoemen naar de zijden en naar de hoeken.

## 1 Eigenschappen van figuren

- Luister goed naar de eigenschappen.
- Heeft een figuur een eigenschap niet, dan zet je er een kruis door.



- Stel vragen over de eigenschappen.
- Heeft een figuur een eigenschap niet, dan zet je er een kruis door.



## 2 Het vierkant en de ruit

- Onderzoek de figuren.
- Kruis de passende eigenschappen aan.

**Tip!** Gebruik je lat en je geodriehoek.




### eigenschappen zijden

- De zijden zijn alle vier even lang.
- De overstaande zijden zijn even lang.
- De overstaande zijden zijn evenwijdig.

### eigenschappen hoeken

- De hoeken zijn alle vier even groot.
- De hoeken zijn alle vier recht.
- Geen enkele hoek is recht.
- De overstaande hoeken zijn even groot.



### eigenschappen zijden

- De zijden zijn alle vier even lang.
- De overstaande zijden zijn even lang.
- De overstaande zijden zijn evenwijdig.


### eigenschappen hoeken

- De hoeken zijn alle vier even groot.
- De hoeken zijn alle vier recht.
- Geen enkele hoek is recht.
- De overstaande hoeken zijn even groot.

## 3 De rechthoek en het parallellogram

- Onderzoek de figuren.
- Kruis de passende eigenschappen aan.

**Tip!** Gebruik je lat en je geodriehoek.




### eigenschappen zijden

- De zijden zijn alle vier even lang.
- De overstaande zijden zijn even lang.
- De overstaande zijden zijn evenwijdig.

### eigenschappen hoeken

- De hoeken zijn alle vier even groot.
- De hoeken zijn alle vier recht.
- Geen enkele hoek is recht.
- De overstaande hoeken zijn even groot.



### eigenschappen zijden

- De zijden zijn alle vier even lang.
- De overstaande zijden zijn even lang.
- De overstaande zijden zijn evenwijdig.

### eigenschappen hoeken

- De hoeken zijn alle vier even groot.
- De hoeken zijn alle vier recht.
- Geen enkele hoek is recht.
- De overstaande hoeken zijn even groot.

