

Dit kan ik al!

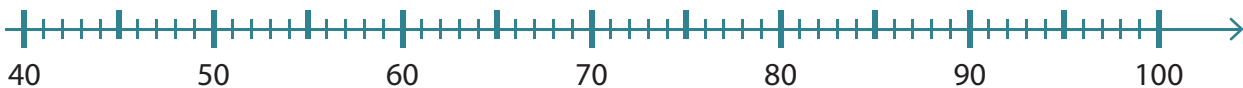


- Ik kan optellen tot 100 met brug, type TE + TE.
- Ik kan aftrekken tot 100 met brug, type TE - TE.

- 1 Luister goed naar de leerkracht.
 Vul de puzzel in.

_ 5 _	_ 3 _	1
2	_ 6 _	_ 4 _

- 2 Maak de optellingen.
 Je mag de getallenas gebruiken.



$$59 + 35 = \underline{59 + 30} + 5 = \underline{89} + 5 = \underline{94}$$

$$47 + 25 = \underline{47 + 20} + 5 = \underline{67} + 5 = \underline{72}$$

$$76 + 16 = \underline{76 + 10} + 6 = \underline{86} + 6 = \underline{92}$$

$$58 + 33 = \underline{58 + 30} + 3 = \underline{88} + 3 = \underline{91}$$

- 3 Maak de aftrekkingen.
 Je mag de getallenas gebruiken.



$$83 - 24 = \underline{83 - 20} - 4 = \underline{63} - 4 = \underline{59}$$

$$62 - 36 = \underline{62 - 30} - 6 = \underline{32} - 6 = \underline{26}$$

$$51 - 15 = \underline{51 - 10} - 5 = \underline{41} - 5 = \underline{36}$$

$$73 - 55 = \underline{73 - 50} - 5 = \underline{23} - 5 = \underline{18}$$

9 Los de rekenpuzzel op.

HORIZONTAAL →

- (a) $29 + 23 = .$
- (c) $43 - 19 = .$
- (e) $27 + 39 = .$
- (f) $57 - 28 = .$
- (h) $39 + 27 = .$

(a) 5	(b) 2		(c) 2	(d) 4	
	(e) 6	(g) 6		(f) 2	(i) 9
		(h) 6	6		1

VERTICAAL ↓

- (b) $52 - 26 = .$
- (d) $17 + 25 = .$
- (g) $82 - 16 = .$
- (i) $45 + 46 = .$

10 Vul een getal in.

+	5	16	23	45
45	50	61	68	90
29	34	45	52	74

-	6	26	9	17
48	42	22	39	31
75	69	49	66	58

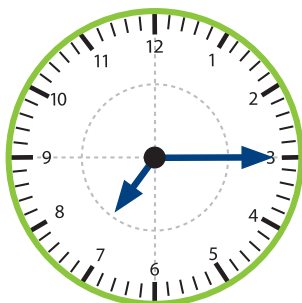
Dit heb ik vandaag geleerd.

- Ik leerde TE + TE tot 100 met brug.
- Ik leerde TE - TE tot 100 met brug.

KLOK-JE-MEE?

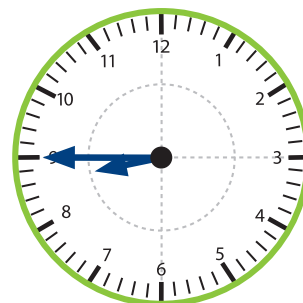
- Hoe laat is het?
- Hoelang heeft Iris tv gekeken?

start



Het is **kwart over 7** .

stop



Het is **kwart voor 9** .

Antwoordzin: Iris keek **1 uur + een half uur (of anderhalf uur)** tv.