

Dit kan ik al!



- Ik kan optellen tot 100 met brug.
- Ik kan aftrekken tot 100 met brug.

1 Schrijf het tiental op.

vorig tiental	getal	volgend tiental
<u>30</u>	35	<u>40</u>
<u>0</u>	6	<u>10</u>
<u>50</u>	52	<u>60</u>

vorig tiental	getal	volgend tiental
<u>10</u>	16	<u>20</u>
<u>20</u>	24	<u>30</u>
<u>40</u>	49	<u>50</u>

2 Maak het vorige of het volgende tiental.
 Kijk goed naar het bewerkingsteken.

$86 + 4 = \underline{90}$	$86 - 6 = \underline{80}$	$73 + 7 = \underline{80}$
$73 - 3 = \underline{70}$	$22 + 8 = \underline{30}$	$44 - 4 = \underline{40}$
$55 + 5 = \underline{60}$	$72 - 2 = \underline{70}$	$27 + 3 = \underline{30}$

3 Kleur de oefeningen met een brug.

$25 - 3$	$36 + 8$	$42 - 3$	$56 + 8$
$22 + 6$	$41 - 9$	$93 + 5$	$36 + 3$
$81 - 2$	$54 + 5$	$51 - 7$	$42 + 6$

4 Schrijf de uitkomst.

$48 + 4 = \underline{48 + 2} + 2 = 52$

$42 - 6 = \underline{42 - 2} - 4 = 36$

$$37 + 5 = \underline{37 + 3 + 2 = 42}$$

/	/
3	2

$$91 - 6 = \underline{91 - 1 - 5 = 85}$$

/	/
1	5

$$25 + 6 = \underline{25 + 5 + 1 = 31}$$

/	/
5	1

$$33 - 8 = \underline{33 - 3 - 5 = 25}$$

/	/
3	5

$$46 + 9 = \underline{46 + 4 + 5 = 55}$$

/	/
4	5

$$71 - 7 = \underline{71 - 1 - 6 = 64}$$

/	/
1	6

- 5** Vul de som of het verschil in.
 Gebruik tussenstappen.
 Onderstreep de getallen die samen een tiental maken.

$$69 + 2 = \underline{69 + 1 + 1 = 71}$$

$$65 - 9 = \underline{65 - 5 - 4 = 56}$$

$$78 + 3 = \underline{78 + 2 + 1 = 81}$$

$$74 - 8 = \underline{74 - 4 - 4 = 66}$$

$$86 + 6 = \underline{86 + 4 + 2 = 92}$$

$$83 - 7 = \underline{83 - 3 - 4 = 76}$$



- 6** Werk uit met het stappenplan.



1. Marleen en Wannes bouwen muren.
 Marleen bouwt een muur van **33 blokken**.
 Wannes bouwt een muur met **9 blokken minder**.
Hoeveel blokken heeft de muur van Wannes?

		33									
	9	? = 24									
	$33 - 9 = \underline{33 - 3 - 6 = 24}$										

Antwoordzin: De muur van Wannes heeft 24 blokken.

2. Leon plukt **36 kersen**.
 Sofie plukt er **8 meer**.
Hoeveel kersen plukt Sofie?

		? = 44									
	36	8									
	$36 + 8 = \underline{36 + 4 + 4 = 44}$										



Antwoordzin: Sofie plukt 44 kersen.

7

Schrijf de som of het verschil.

Let op! Niet alle oefeningen zijn met de brug over het tiental.

$81 + 5 = 86$

$98 - 20 = 78$

$63 + 7 = 70$

$35 - 6 = 29$

$13 + 70 = 83$

$92 - 6 = 86$

$55 + 5 = 60$

$72 - 2 = 70$

$54 + 9 = 63$

$77 - 8 = 69$

$56 + 9 = 65$

$80 - 25 = 55$

8

Los op met het stappenplan.

1. Sarah heeft een leesboek met **36 pagina's**.
 Dat zijn er **8 meer** dan in het leesboek van Jordy.
Hoeveel pagina's telt het leesboek van Jordy?



		36																	
	8	? = 28																	
	36 - 8 = 28																		

Antwoordzin: Het leesboek van Jordy telt 28 pagina's.

2. In de klas van Petra zitten **19 kinderen**.
 Dat zijn er **3 minder** dan in de klas van Tonio.
Hoeveel kinderen zitten in de klas van Tonio?

		? = 22																	
	19	3																	
	19 + 3 = 22																		

Antwoordzin: In de klas van Tonio zitten 22 kinderen.

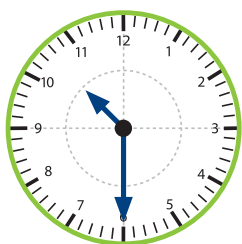
Dit heb ik vandaag geleerd.

- Ik leerde de optellingen en aftrekkingen tot 100 met brug.

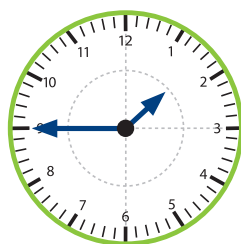
KLOK-JE-MEE?



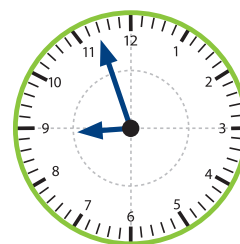
Het is **kwart over 7**



Het is **half 11**



Het is **kwart voor 2**



Het is **bijna 9 uur**